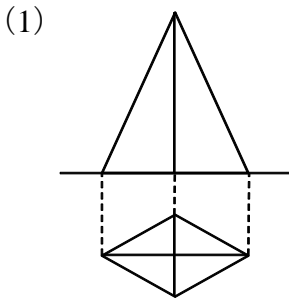
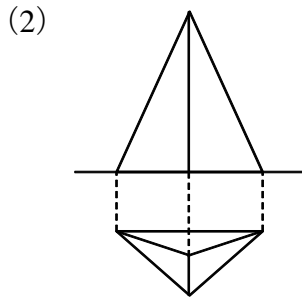


【演習】⑥投影図

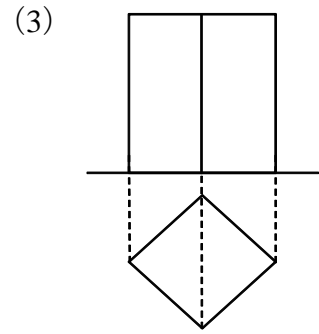
1 下の図はそれぞれある立体の投影図である。立体の名称及び見取図を書きなさい。



名称 []
見取図



名称 []
見取図



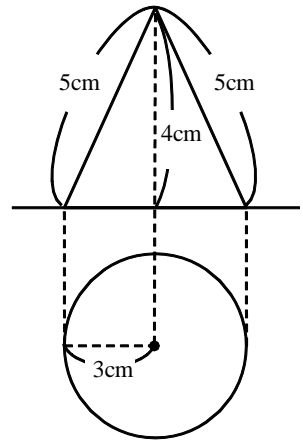
名称 []
見取図



2 右の図は、ある立体の投影図である。
次の問いに答えよ。

(1) 立体の名称を答えよ。

(2) この立体の見取図をかけ。



(3) この立体の体積及び表面積を求めよ。ただし、円周率は π とする。